
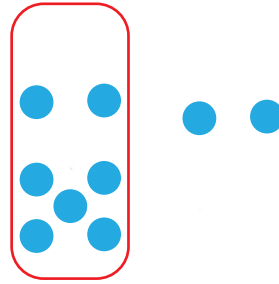


1 Il y a 9 bonbons dans le sachet. Lola en retire 2.  
Combien reste-t-il de bonbons dans le sachet?




Je cherche.



Il reste 7 bonbons dans le sachet.

2 Sami a 5 billes dans la poche droite et 3 billes dans la poche gauche.  
Combien a-t-il de billes en tout?



Je cherche.




poche gauche



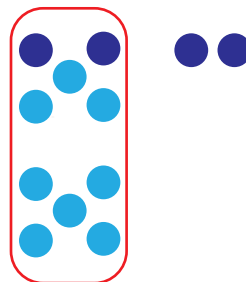
poche droite

Sami a 8 billes en tout.

3 Il y a 8 poissons dans l'aquarium. J'en ajoute 4.  
Combien y a-t-il de poissons dans l'aquarium maintenant?



Je cherche.



je complète  
d'abord la  
dizaine.

Il y a 12 poissons en tout.